



**KASTAMONU**

**ANADOLU İMAM HATİP LİSESİ**  
**İMAM HATİP ORTAOKULU SEÇME SINAVI**

**Kitapçık Türü**

**A**

Adı Soyadı

Sınıfı/Numarası

T.C.:

**SINAV BAŞLAMADAN AŞAĞIDAKİ YÖNERGELERİ MUTLAKA OKUYUNUZ**

Bu Kitapçıkta Kastamonu Anadolu İmam Hatip Lisesi İmam Hatip Ortaokulu Seçme Sınavına ait **Türkçe, Matematik, Sosyal Bilgiler, Din Kültürü ve Ahlak Bilgisi, Fen Bilgisi** derslerine ait sorular bulunmaktadır.

1. Öğrenciler sınav kurallarına ve gözetmenlerin tüm uyarılarına uymak zorundadır.
2. Cevap kağıdındaki bilgilerinizi doğru şekilde doldurduğunuzdu sınav başlamadan önce kontrol ediniz.
3. Sınav başladıktan sonra öğrencilerin gözetmen ve birbirleri ile konuşmaları ,kalem ,kağıt silgi vb. şeyleri istemeleri yasaktır.
4. Cevaplarınızı , cevap kağıdındaki ilgili soru numaralarını dikkate alarak yuvarlağın dışına taşırmadan kodlayınız.
5. Değiştirmek istediğiniz bir cevabı, yumuşak bir silgi ile cevap kağıdını yıpratmadan siliniz ve yeni cevabı kodlayınız.
6. Soru kitapçığı üzerinde yapıлып cevap kağıdına işaretlenmeyen cevaplar değerlendirmeye alınmayacaktır.
7. Soru kitapçığının içindeki boş alanları çözümlerinizi için kullanabilirsiniz.
8. Cevaplamaya istediğiniz dersten başlayabilirsiniz.
9. Sınav bitiminde cevap kağıdını gözetmen öğretmene teslim ediniz.
10. Sınav süresince zorunlu haller dışında dışarıya çıkılması yasaktır.
11. Sınav süresi 100 dakikadır.

**Hepinize Başarılar Dileriz.**

**Bu kitapçığın her hakkı saklıdır.**

**TÜRKÇE DERSİ**

1. Bu testte 15 soru vardır.
2. Cevaplarınızı, cevap kâğıdına işaretleyiniz.

**1. ' mi, mi ' aşağıdaki cümlelerin hangisine soru anlamı katmıştır?**

- A) Annem geldi mi sevinçten havalara uçarız
- B) Demet sabah mı yoksa akşam mı gelecek
- C) Babam kızdı mı herkes sesini keser
- D) Siyah mı kırmızı mı olsun karar verelim

**2. Aşağıdaki cümlelerin hangisinde gereksiz sözcük kullanılmamıştır?**

- A) Can eliyle yüzüme tokadı yapıştırdı.
- B) Nihayet bu dönem sonunda bitti.
- C) Konuşmak için elini yukarı kaldırdı.
- D) Onu görünce hemen koştum.

**3. Aşağıdaki cümlelerin hangisinde sebep-sonuç ilişkisi birlikte verilmiştir?**

- A) Ara sıra kapımıza gelir, ekmek isterdi.
- B) Gelirken biraz patates alır mısın?
- C) Titremesine engel olamıyordu çünkü çok üşüyordu.
- D) Kalabalık bir şehirde yaşıyordu.

- 4. -Kızının altın renkli saçlarını kesiyordu.  
-Akşam eve dönerken yolumu kesti.  
-Çok konuştun, kes artık!  
-Kumaştan küçük bir parça kesmiş.

**Yukarıdaki cümlelerde "kesmek" kelimesi kaç farklı anlamda kullanılmıştır?**

- A) 1
- B) 2
- C) 3
- D) 4

**5. Aşağıdaki cümlelerin hangisinde "-lı" ekiyle türemiş kelime yoktur?**

- A) Sıcak sobayı tutunca eli yandı.
- B) Yaşlı adam yürümekte güçlük çekiyordu.
- C) Köylü, çocuğa yardım etti.
- D) Evli olan halam bize geldi.

**6. Aşağıdaki cümlelerin hangisinde adın yerine kullanılan kelime vardır?**

- A) Sevgi, bana onu ver.
- B) Okulda çok konuştular.
- C) Çalıştıkça çok başarılı oldum.
- D) Denizdeki balıklar ölmüştü.

Ayşe ( ) dedesinin sesiyle uyandı ( )  
Dedesi ( )  
( ) Biz bu toprakları kanla ( ) kemikle aldık ( )  
Size bırakır mıyız( )  
Ayşe üstünü giyindi. Elini yüzünü yıkadı.  
Annesi ve babası evde yoktu. Dedesinin yanına gitti.  
Annesinin, babasının nerede olduğunu sordu. Meydana gittiler, dedi dedesi. Ayşe anlayamadı. Neden diye sordu, dedesine. Vatan hainleri başkaldırmış kızım. Ah şu dizlerim tutsaydı da ben de gidebilseydim, diye söyleniyordu yaşlı adam.  
- Nereye gidecektin, dede?  
- Vatanı savunmaya yavrum.  
- “Bu toprakları kanla kemikle aldık” ne demek dede?  
- Milli Mücadele’nin son günleriydi. Yunan askerleri kaçarken köyümüzü bastılar. Babam askerdeydi. Ninem köyün çocuklarını samanlığa saklamıştı. Samanlık kapısının deliğinden görebiliyordum onları. Dedemi, ninemi, annemi ve komşularımızı kurşuna dizmişti hainler. Bağırılmak için elimi ısırardım. Bak izi hala burada. Yoksa bizi de öldürürlerdi.  
-O zaman babam da olmazdı değil mi dede?  
-Evet kızım. Baban da olmazdı, Türk Milleti de olmazdı.

**7., 8. ve 9. soruları aşağıdaki metne göre cevaplayınız.**

7. Yukarıdaki ilk üç cümlede ( ) içine gelmesi gereken noktalama işaretlerinden hangileri aşağıdakilerden birisi olamaz?
- A)Virgöl  
B)Nokta  
C)İki nokta üst üste  
D)Ünlem

8. Ayşe’nin dedesi “Biz bu toprakları kanla kemikle aldık” derken aşağıdakilerden hangisini demek istemiştir?
- A)Vatanımızı korumak için canımızı verdik.  
B)Kemiklerimizin içinden kan akar.  
C)Düşmanlar bizi vurunca kanlarımız aktı.  
D)Düşmanlar dedemi, ninemi vurunca kanlar aktı.

9. Yukarıdaki metnin ana fikri nedir?

- A)Ailemizi sevmeliyiz.  
B)Dedemizle sohbet etmeliyiz.  
C)Vatanımızı her durumda savunmalıyız, korumalıyız.  
D)Düşmandan saklanmalıyız.

10. 'Gördüm konmuş dala bir kuş.'

**Yukarıdaki cümlenin kurallı ve olumsuz olarak yazılmış hali hangisidir?**

- A) Dala konmuş bir kuş gördüm.
- B) Bir kuş dala konmuş gördüm.
- C) Dala konmuş bir kuş görmedim.
- D) Konmuş dala bir kuş görmedim.

11. (I) O gün Ahmetlere dayısı gelmişti.  
(II) Ahmet'e kıpkırmızı bir top getirdi.  
(III) Ahmet hediyesini çok beğendi.  
(IV) Dayısına çok teşekkür etti.

**Yukarıdaki paragrafta numaralandırılmış cümlelerin hangisinde pekiştirme yapılmıştır?**

- A) IV
- B) III
- C) II
- D) I

12. **Aşağıdakilerden hangisi atasözü değildir?**

- A) Akıl akıldan üstündür.
- B) Öfkeyle kalkan zararlar oturur.
- C) Ayranım ekşidir diyen olmaz.
- D) Bir okul açan, bir hapisane kapatır.

13. **Aşağıdakilerden hangisinde ayrı yazılması gereken 'de, da' bitişik yazılmıştır?**

- A) Yolda köpekler koşuyordu.
- B) Eve geldiklerinde çoktan uyumuştular.
- C) Yolda yürüyen insanlar vardı.
- D) Çok yağıyordu, ayakları da ıslanmıştı.

14. **Aşağıdaki cümlelerin hangisinde virgül (,) kaldırılırsa cümlenin anlamı değişir?**

- A) Güneş, etrafı ısıtmaya çoktan başladı.
- B) Küçük, arabaya hızla bindi.
- C) Ağaç, yapraklarını erken dökmeye başladı.
- D) Ali, pazardan siparişleri almaya gitti.

15. **Aşağıdaki cümlelerin hangisinde hatalı bir kısaltma yapılmamıştır?**

- A) TRT resmi yayın kuruluşudur.
- B) T.V. yaz, 1050'ye gönder.
- C) Bugün T.B.M.M.'de görüşmeler başladı.
- D) Seda, Atatürk İ.Okulu'na gidiyor.

## MATEMATİK DERSİ

1. Bu testte 15 soru vardır.
2. Cevaplarınızı, cevap kâğıdına işaretleyiniz.

1. Arif 360 TL'lik harçlığının  $\frac{5}{6}$  sını harcadıktan sonra geriye kaç TL parası kalır?
- A) 300    B) 180    C) 60    D) 40

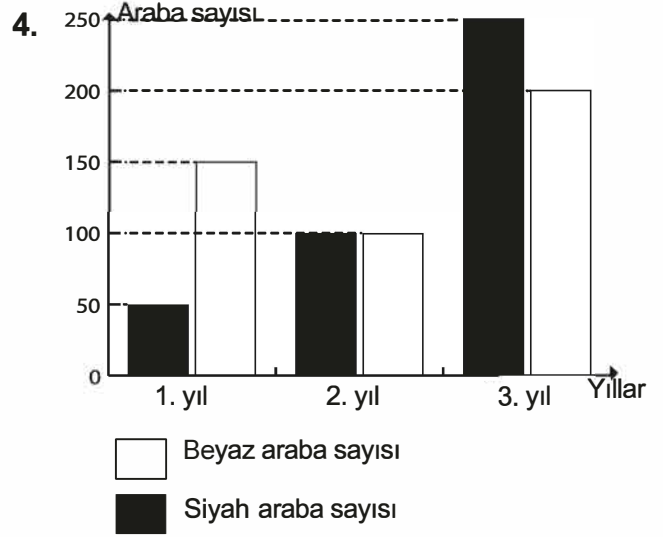
2. Saat 07.25 'te antrenman yapmaya başlayan Aysun, 6 saat 40 dakika boyunca antrenman yapmıştır.

**Buna göre; Aysun, antrenmanını saat kaçta bitirmiştir?**

- A) 13.05    B) 14.05    C) 15.00    D) 16.05

3. Ahmet, evinin bahçesine 1 metre 15 santimetre uzunluğundaki bir fidanı dikmiştir. Her yıl 40 santimetre uzayan bu fidanın boyu, dikildikten 4 yıl sonra kaç santimetre olur ?

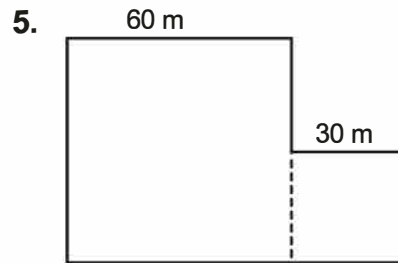
- A) 275    B) 260    C) 250    D) 245



Yukarıdaki grafikte bir oto galeride satılan siyah ve beyaz renkli araba sayılarının yıllara göre dağılımı görülmektedir.

**Grafikteki verilere göre, aşağıdaki yorumlardan hangisi yapılamaz?**

- A) 2. yılda satılan siyah ve beyaz araba sayıları birbirine eşittir.
- B) Satılan siyah araba sayısı her yıl artmıştır.
- C) 1. yıl satılan beyaz araba sayısı siyah araba sayısından 100 fazladır.
- D) Satılan beyaz araba sayısı her yıl artmıştır.



Yukarıdaki kenar uzunlukları 60 m ve 30 m olan kare şeklindeki bitişik arsaların çevresine 6 m aralıkla ağaç dikilecektir.

**Buna göre, kaç ağaç gereklidir ?**

- A) 30    B) 40    C) 50    D) 60

6. Terimleri altışar azalarak ilerleyen bir ardışık sayı dizisinin ilk terimi 145 ise dördüncü terimi kaçtır?

A) 127 B) 133 C) 139 D) 145

7.

$$\begin{array}{r} 342\Delta \\ +43\Box5 \\ \hline \star818 \end{array}$$

Yukarıdaki toplama işleminde yer alan  $\Box$ ,  $\Delta$  ve  $\star$  sembollerine karşılık gelen rakamların toplamı kaçtır?

A) 16 B) 17 C) 18 D) 19

8. Dört basamaklı, rakamları farklı, en küçük doğal sayıdan; üç basamaklı, rakamları farklı, en büyük doğal sayıyı çıkardığımızda sonuç kaç olur ?

A) 46 B) 36 C) 27 D) 18

9. Yöntem: Bir doğal sayıyı kısa yoldan 25 ile çarpmak için, önce 4'e bölüp sonra elde ettiğimiz sayıyı 100 ile çarpalım.

Örnek:  
 $24 \times 25 = ?$

1.Adım  
24 sayısını 4'e bölelim  
 $24 \div 4 = 6$

2.Adım  
elde ettiğimiz 6 sayısını 100 ile çarpalım  
 $6 \times 100 = 600$

O halde  $24 \times 25 = 600$  dür

**Buna göre; aşağıda verilen sayılardan hangisi, örnekte gösterildiği gibi 25 ile kısa yoldan çarpmaya uygun değildir?**

A) 12 B) 16 C) 21 D) 28

10. Sepeti 10 TL'den 12 sepet kırmızı elma ve sepeti 20 TL'den 43 sepet yeşil elma tamamen satıldığında kaç TL para elde edilir ?

A) 600 B) 760 C) 840 D) 980

11. Her hafta kumbarasına eşit miktarda para atan Enes, 7 hafta sonunda kumbarasında 910 TL olduğunu görüyor.

**Buna göre; Enes'in kumbarasına her hafta attığı para kaç TL'dir ?**

- A) 125    B) 130    C) 135    D) 140

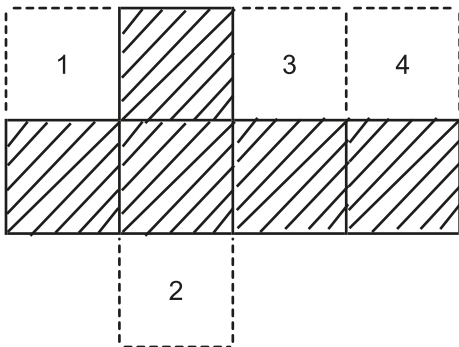
12.



**Yukarıda dengede bulunan terazideki**  
 ■ = 3 kg ve ▲ = 2 kg olduğuna göre,  
 ● kaç kg'dır ?

- A) 5    B) 4    C) 3    D) 2

13.



**Yukarıdaki taralı şeklin bir küp açılımı olması için 1,2,3 ve 4 ile gösterilen yerlerden hangisine bir kare eklenmelidir ?**

- A) 1    B) 2    C) 3    D) 4

14.



**Yukarıda modellenen kesrin eşiti aşağıdakilerden hangisidir ?**

- A)  $\frac{1}{3}$     B)  $1\frac{1}{3}$     C)  $\frac{7}{3}$     D)  $3\frac{1}{3}$

15. Ayşe, Burhan, Ceyda ve Derya'nın eline boyları aynı olan çubuklardan birer tane verilmiştir. Ayşe elindeki çubuğu 4 eş parçaya, Burhan 5 eş parçaya, Ceyda 6 eş parçaya, Derya 7 eş parçaya bölüyor ve hepsi böldükleri küçük parçalardan bir tanesini eline alıp ölçüyor.

**Buna göre, hangisinin elindeki parçanın uzunluğu daha küçüktür ?**

- A) Ayşe    B) Burhan    C) Ceyda    D) Derya

**SOSYAL BİLGİLER**

1. Bu testte 10 soru vardır.
2. Cevaplarınızı, cevap kâğıdına işaretleyiniz.

1. Batu arkadaşı Taha'yı ziyaret edecektir. Evini bulabilmesi için Taha bir kroki çizer ve Batu'ya verir.

**Aşağıdakilerden hangisi Taha'nın kroki çizerken dikkat etmesi gereken bir durum değildir?**

- A) Önemli yerleri gösteren işaretler kullanılmalı.
- B) Kuşbakışı olarak çizmeli.
- C) Önemli cadde ve sokak isimlerini yazmalı.
- D) Çizerken bir ölçek kullanılmalı.

2. 1881 yılında Selanik'te dünyaya gelen Mustafa Kemal, askeri okullarda eğitim görmüştür. 1911'de Trablusgarp Savaşı'na katılmıştır. I.Dünya Savaşı'nda çeşitli cephelerde görev almıştır.

19 Mayıs 1919'da Milli Mücadele'yi başlatmıştır. Erzurum ve Sivas'ta yaptığı kongrelerde yurdun kurtuluşuna yönelik kararlar almıştır. Ankara'da TBMM'yi açarak yeni Türk devletini kurmuştur.

**Yukarıdaki paragrafı okuyan Kerem aşağıdaki sorulardan hangisinin cevabını bulamaz?**

- A) Milli Mücadele'nin nerede başladığının.
- B) Kongrelerin hangi illerde yapıldığının.
- C) TBMM'nin nerede açıldığının.
- D) Yeni Türk devletinin hangi olayla kurulduğunun.

3. Ahmet babasıyla kamp yapacağı için çok heyecanlıdır. Kamp hazırlıkları sırasında babası Ahmet'e "Doğada yönünü bulmasına yardımcı olacak bazı yöntemler olduğunu" söyler.

**Aşağıdaki cümlelerden hangisi, Ahmet'e babasının kuzeyi bulma ile ilgili verdiği yanlış bir bilgidir?**

- A) Karınca yuvalarındaki toprak birikintisi kuzeyi gösterir.
- B) Ağaçların yosunlu tarafları kuzeyi gösterir.
- C) Ülkemizdeki minare kapıları kuzeyi gösterir.
- D) Öğle vakti çubuğun en kısa gölgesi kuzeyi gösterir.

- 4.

Ampul	Marconi
Telefon	Graham Bell
Telgraf	Samuel Mors
Telsiz	Thomas Edison

**Yukarıdaki tabloda mucitler ve icatları verilmiştir. Verilen eşleştirmelerden hangileri yer değiştirirse tablo doğru olur?**

- A) Marconi - Samuel Mors
- B) Graham Bell - Thomas Edison
- C) Graham Bell - Samuel Mors
- D) Marconi - Thomas Edison



5. I. Gece ders çalışırken masa lambası kullanılmalı.  
II. Cep telefonu ve bilgisayarlar zararlı elektronik dalgalar yayar.  
III. Işık kaynağı odayı doğrudan aydınlatacak şekilde olmalı.  
IV. İletişim araçları sayesinde uzaklar yakın olur.

**Hayatımızın vazgeçilmezi olan teknoloji ve hayat ile ilgili yukarıda verilen cümlelerden hangisi yanlıştır?**

- A)I B)II  
C)III D)IV

6. Gelişen teknoloji günlük hayatımızda birçok alanda kolaylıklar da sağlamaktadır. Bu alanlardan biri de sağlıktır.

**Aşağıda verilen teknolojik araçlardan hangisi sağlık amaçlı kullanılmaz?**

- A)Röntgen  
B)Projeksiyon  
C)Steteskop  
D)Ultrason

7. Özgür, köylerinde meydana gelen doğal afetin nedenlerini araştırırken köylerinin çok eğimli olduğunu ve çok yağmur yağdığını tespit eder. Bu faktörlerin de eğimli yamaçtaki toprağın kopmasına sebep olduğunu öğrenir.

**Özgür'ün yaşadığı ve nedenlerini araştırdığı doğal afet aşağıdakilerden hangisidir?**

- A)Çığ B)Erezyon  
C)Sel D)Heyelan

8. Kastamonu'da yaşayan ve buradaki cephanelerin Ankara'ya götürülmesi sırasında donarak ölen kahramanımızdır. Köyde yetim çocuklara süt annelik yapacak kadar iyi yürekli bir insandır. Cephaneleri taşıırken ıslanmasınlar diye sırtındaki battaniyeyi, toplara ve topların arasına koyduğu kızının üzerine örter. Hava koşulları çok ağırdır. Kağnıyı çeken öküz ölünce öküzün yerine kendisi geçer. Ancak ağır hava koşullarına dayanamayarak donarak ölür.

**Yukarıda hayatından kısaca bahsettiğimiz ve yazdığı destanla tarihimizde koca bir sayfa açan kurtuluş savaşı kadın kahramanımız aşağıdakilerden hangisidir?**

- A)Tayyar Rahime B)Şerife Bacı  
C)Kara Fatma D)Kılavuz Hatice

9. Hülya öğretmen "Çevremizde neler var?" konusunu işlerken doğal ve beşeri unsurları ayırt ederek anlatmıştır.

I.	Köprü	Doğal
II.	Göl	Doğal
III.	Ova	Doğal
IV.	Baraj	Beşeri

**Öğretmenin tahtaya yaptığı tabloda bir yanlışlık olduğunu farkedten Ceren hangi eşleşmenin yanlış olduğunu söyler?**

- A)I B)II  
C)III D)IV

10. Tasarruflu olmak hem kendi aile bütçemiz hem de ülkemiz için oldukça önemlidir. Geçmişten günümüze tasarruflu olmanın önemi bilindiği için bu konuda birçok atasözü söylenmiştir.

**Aşağıdakilerden hangisi tasarruflu olmayı anlatan bir atasözüdür?**

- A)Güvenme varlığa, düşersin darlığa.  
B)İşleyen demir ışıldar.  
C)Ağacı kurt, insanı dert yer.  
D)Çanağa ne doğarsan, kaşığında o çıkar.

**FEN BİLİMLERİ DERSİ**

1. Bu testte 15 soru vardır.
2. Cevaplarınızı, cevap kâğıdına işaretleyiniz.

1. Enes Fen Bilimleri dersinde aşağıdaki deneyleri yapıyor.



1 yönünde hareket eden oyuncak arabaya 2 yönünde kuvvet uygulanıyor.



Karşıdan gelen tenis topuna raketle vurup topu geri gönderiyor.

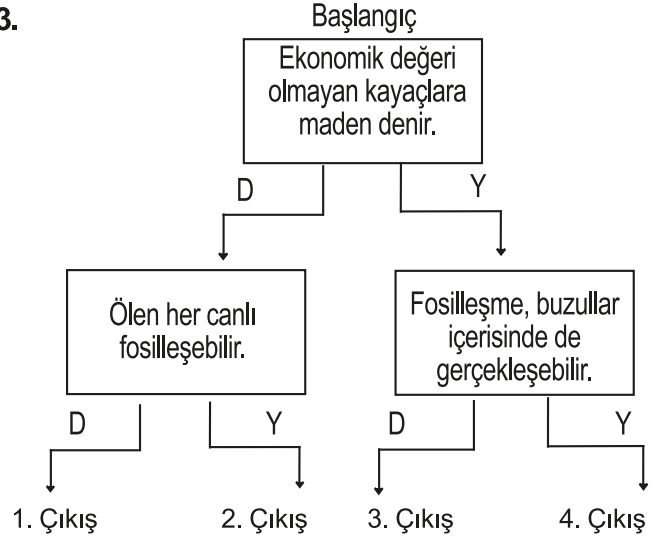


Oyun hamurunu eliyle yuvarlayarak küre haline getiriyor.

**Buna göre Enes, yaptığı bu deneylerle kuvvetin hangi etkisini gözlemleyememiştir?**

- A) Hızlanma
  - B) Yavaşlama
  - C) Yön değiştirme
  - D) Şekil değiştirme
2. **Aşağıdakilerden hangisi, gıda alışverişi yaparken dikkat etmemiz gerekenlerden biri değildir?**
- A) Paketlenmiş ve dondurulmuş gıda alırken son kullanma tarihine bakılmalıdır.
  - B) Besinlerin temiz, taze ve doğal olmalarına dikkat edilmelidir.
  - C) Paketli gıdaların paketlerinin yırtık olmamasına dikkat edilmelidir.
  - D) Paketlerin üzerinde TSE damgası olmamalıdır.

- 3.



**Yukarıdaki ifadeler başlangıçtan itibaren okunup doğru (D) ya da yanlış (Y) olmasına göre ilerlendiğinde, hangi çıkışa ulaşılır?**

- A) 1 B) 2 C) 3 D) 4

4. Dünya'nın dönme hareketinin tamamlanma süresi.....1.....

Dünya'nın dolanma hareketinin tamamlanma süresi.....2.....

**Yukarıdaki 1 ve 2 ile gösterilen boşluklara yazılacak süreler, aşağıdakilerden hangisinde doğru verilmiştir?**

- |                   |                |
|-------------------|----------------|
| <u>1</u>          | <u>2</u>       |
| A) 24 saat        | 365 gün 6 saat |
| B) 365 gün 6 saat | 24 saat        |
| C) 1 Ay           | 1 Yıl          |
| D) 1 Gün          | 1 Ay           |

5. **Aşağıdakilerden hangisi yapırsa, kaynakların kullanımında tasarruflu davranılmış olunmaz?**
- A) Kullanılmayan odalardaki lambaları söndürmek.  
 B) Diş fırçalama esnasında suyu açık bırakmak.  
 C) Elektrikli alet alırken enerji verimli olanları tercih etmek.  
 D) Bozuk olan sifon ve muslukları tamir ettirmek.
6. I) Motorlu taşıtların korna ve motor sesleri  
 II) Yol kenarlarına yapılan ağaçlandırma  
 III) Yol ve bina yapım çalışmaları
- Yukarıda verilenlerden hangileri ses kirliliğine sebep olabilir?**
- A) Yalnız I  
 B) I ve II  
 C) I ve III  
 D) II ve III
7. **Aşağıdakilerden hangisi, uygun aydınlatma veya tasarruf sağlayan uygulamalardan biri değildir?**
- A) Merdiven boşluklarında harekete duyarlı lamba kullanmak.  
 B) Evlerin duvarlarını ve tavanını koyu renkli boyalar ile boyamak.  
 C) Binaları güneş ışığından faydalanacak şekilde inşa etmek.  
 D) Akkor lamba yerine floresan lambalar kullanmak.
8. I) Yağlar  
 II) Vitaminler  
 III) Karbonhidratlar
- Yukarıdaki besinlerden hangisi ya da hangileri vücudumuzda enerji verici olarak görev yapar?**
- A) Yalnız III  
 B) I ve II  
 C) I ve III  
 D) I, II ve III

9.

1.Megafon	2.Floresan	3.Kandil
4.Mikrofon	5.Hoparlör	6.Meşale

**Yukarıdaki tabloda verilen araçlardan hangileri, geçmişten günümüze kullanılan aydınlatma araçlarındandır?**

- A) 1,2,3  
 B) 2,3,6  
 C) 1,3,6  
 D) 2,4,5


10. Emel'in annesi mutfakta makarna pişirmek için tencerede su ve makarnayı karıştırıp, tencereyi ocağa koyuyor. Makarnalar kaynayan su içinde haşlandıktan sonra biraz soğuması için tencereye soğuk su ilave ediyor. Daha sonra tenceredeki su ve makarnayı birbirinden ayırıyor.

**Emel'in annesi makarna ve suyu birbirinden ayırmak için aşağıdaki malzemelerden hangisini kullanmış olabilir?**

- A) Süzgeç  
 B) Elek  
 C) Mıknatıs  
 D) Tabak

KASTAMONU ANADOLU İ.H.L.

11.



**Şekildeki gibi sıvıların dışarıya ısı vererek katı hale geçmesine ne ad verilir?**

- A) Erime  
 B) Donma  
 C) Buharlaştırma  
 D) Soğuma

12. Aşağıdakilerden hangisinde maddenin katı, sıvı ve gaz haline verilen örneklerin tamamı doğrudur?

<u>KATI</u>	<u>SIVI</u>	<u>GAZ</u>
A) Buz	Ayran	Hava
B) Kolonya	Su	Hava
C) Kalem	Hava	Su
D) Tahta	Zeytinyağı	Ayran

- 13.



Taş

Ahmet, yukarıdaki düzgün şekilli olmayan taşın hacmini ölçmek istiyor. Ahmet'in elinde aşağıdaki malzemeler vardır.

Eşit Kollu  
Teraziİçi Boş  
Dereceli Silindir

Su

Ahmet'in taşın hacmini ölçebilmesi için aşağıdaki hangi seçenekteki malzemeleri kullanması yeterlidir?

- A) Sadece eşit kollu terazi  
B) Sadece dereceli silindir  
C) Eşit kollu terazi ve dereceli silindir  
D) Su ve dereceli silindir

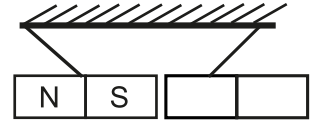
14. Ayşe, bazı maddeleri aşağıdaki gibi gruplandırmıştır.

1.Grup	2.Grup
Sünger Kağıt Toprak	Plastik Metal Taş

Ayşe bu maddeleri hangi özelliklerine göre gruplara ayırmış olabilir?

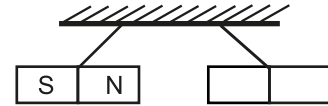
- A) Suda yüzme ve batma  
B) Miknatısla çekilip çekilmeme  
C) Suyu emme ve emmeme  
D) Kokusu olup olmama

- 15.



1. Miknatıs

**ÇEKİYORLAR**



2. Miknatıs

**İTİYORLAR**

Yukarıda tavana ipe asılı bazı mıknatısların birbirini çekme ve itme durumları gösterilmiştir.

Buna göre, üzerinde kutupları yazılmamış olan 1.mıknatıs ve 2.mıknatısın kutupları, aşağıdakilerden hangisinde doğru verilmiştir?

1. Miknatıs	2. Miknatıs
A) S N	N S
B) N S	S N
C) S N	S N
D) N S	N S

**DİN KÜLTÜRÜ VE AHLAK BİLGİSİ DERSİ**

1. Bu testte 10 soru vardır.
2. Cevaplarınızı, cevap kâğıdına işaretleyiniz.

1. I. Onları üzecek söz ve davranışlardan her zaman kaçınmak.  
II. Onların tüm ihtiyaçlarını karşılamak.  
III. Karşılaştığımızda selamlaşmak; hâl ve hatırlarını sormak.  
IV. Sevinçli ve mutlu günlerinde tebrik edip iyi dileklerde bulunmak.

**Yukarıdakilerden hangileri akraba ve komşuluk ilişkilerimizle ilgilidir?**

- A) I-III-IV  
B) I-II-IV  
C) I-II-III  
D) II-III-IV

2. Hz. Muhammed'in (s.a.v.) doğum gününü ifade etmek için aşağıdaki kavramlardan hangisi kullanılır?

- A) Miraç  
B) Berat  
C) Kadir  
D) Mevlit

3. Mekke'de az da olsa, Hz. İbrahim'den (a.s.) kalan tevhid (doğru) inancını sürdüren insanlar da vardı.

**Bu insanlara ne ad verilir?**

- A) Hanif  
B) Putperest  
C) Müşrik  
D) Hristiyan

4. Hz. Muhammed (s.a.v.) ile ilgili aşağıda verilen bilgilerden hangisi **yanlıştır**?

- A) Mekkeliler, el-Emin olarak biliyorlardı.  
B) Gençlik yıllarında dedesi Abdulmuttalib'in yanında kalmıştı.  
C) Annesinin adı Âmine, babasının adı Abdullah'tır.  
D) 632 yılında Medine'de vefat etmiştir.

5. Kur'an-ı Kerim hakkında aşağıda verilen bilgilerden hangisi **yanlıştır**?

- A) Kur'an-ı Kerim bütün insanlığa indirilmiştir.  
B) Kur'an-ı Kerim Hz. Muhammed'e (s.a.v.) gönderilmiştir.  
C) Kur'an-ı Kerim'in her bir cümlesine sure denir.  
D) Kur'an-ı Kerim, değişmeyen tek kutsal kitaptır.

6. I. Namaz kılmak  
II. Ahirete inanmak  
III. Oruç tutmak  
IV. Zekat vermek  
V. Kitaplara inanmak

**Yukarıda verilenlerden hangileri İslam'ın inanç esaslarındadır?**

- A) I, II ve V  
B) I, III ve IV  
C) II ve V  
D) III ve IV

7. Günlük hayatta konuşurken duygu ve düşüncelerimizi ifade etmek için bazı dini ifadeler kullanırız. Bu ifadeler dilimize ve kültürümüze yerleşmiş, hayatımızın ayrılmaz bir parçası olmuştur.

**Yukarıda verilenlere göre aşağıdaki ifadelerden hangisi yakını ölmüş birisine söylenir?**

- A) Allah acil şifalar versin.  
B) Allah rahmet eylesin.  
C) Allah razı olsun.  
D) Allahısmarladık.

9. İslam dininin inanç esaslarından biridir. Bütün semavi (ilahi) dinlerde ortak inançtır. Kelime anlamı "son" demektir. Bu inanç esasları sayesinde insan, yaptıkları tüm iyi ve kötü davranışların karşılığını alacağını bilir.

**Yukarıda bahsedilen İslam'ın inanç esasları aşağıdakilerden hangisidir?**

- A) Allah'a iman.  
B) Ahirete iman.  
C) Kitaplara iman.  
D) Kaza ve kadere iman.

8. Kelime-i Şehadet'in anlamı aşağıdakilerden hangisidir?

- A) Allah'tan başka ilah yoktur ve Hz. Muhammed (s.a.v.) onun kulu ve elçisidir.  
B) Rahman ve rahim olan Allah'ın adıyla.  
C) Sen eksik sıfatlardan uzaksın Allah'ım.  
D) Ben tanıklık ederim ki Allah'tan başka ilah yoktur, yine tanıklık ederim ki Hz. Muhammed onun kulu ve elçisidir.

10. İçki içmek, domuz eti yemek, kumar oynamak gibi Allah'ın yasakladığı davranışlara ne isim verilir?

- A) Helal  
B) Mekruh  
C) Haram  
D) Farz



## YABANCI DİL DERSİ

1. Bu testte 10 soru vardır.
2. Cevaplarınızı, cevap kâğıdına işaretleyiniz.

- 1- What do you do in the afternoon?  
2- What do you do in the evening?  
3- What do you do in the morning?  
a) I have lunch at school, and I meet my friends.  
b) I have breakfast, and I go to school.  
c) I have dinner, and I do my homework.

**Sorular ve cevapların doğru bir şekilde eşleştirilmiş olduğu seçeneği işaretleyiniz.**

- A) 1-c 2-b 3-a B) 1-a 2-b 3-c  
C) 1-a 2-c 3-b D) 1-c 2-a 3-b

2. Hi! My name is George. I am from Britain.  
I- I am a vet.  
II- I work at a veterinary clinic.  
III- I can treat people.  
IV- I like helping animals.  
I love my job.



**Paragraftaki anlam bütünlüğüne uygun olmayan seçeneği işaretleyiniz.**

- A) I B) II C) III D) IV

3. **Autumn**  
In autumn, the weather is cool and rainy. I need my umbrella, sunglasses and socks.

**Summer**

It is sunny and hot in summer. I need my boots, t-shirt and hat.

**Metinlerde altı çizili kelimelerin hangi ikisi yer değiştirilirse metinler doğru olur?**

- A) umbrella- t-shirt  
B) sunglasses- t-shirt  
C) umbrella- boots  
D) sunglasses- boots

4. **Melinda:** Hey look! This is nice. Try this green dress on.

**Juliette:** .....

**Melinda:** How about this blue dress?

**Juliette:** Ok.

**Konuşmayı en iyi şekilde tamamlayan seçeneği işaretleyiniz.**

- A) Sorry I don't like green.  
B) Sure.  
C) Of course. I like green.  
D) I need a green dress.

- 5.



**Görseldeki kişiye uygun cümleyi işaretleyiniz.**

- A) She is young and beautiful. She is slim. She has curly hair.  
B) She is old and beautiful. She is plump and she has gray hair.  
C) She is short and fat. She has curly hair and a headscarf.  
D) She is tall and slim. She is beautiful. She has trousers.

6. Teacher: ..... Save the energy  
Liz: Sure !

**Konuşmayı tamamlayan cümle kaç numaralı kartta verilmiştir?**

41

Turn off the lights please.

21

Look at the board, please.

27

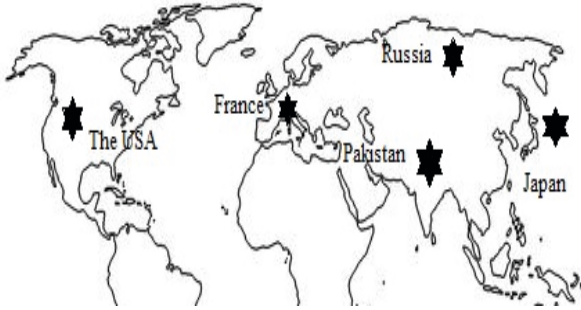
Turn on the lights, please.

17

Give me the green pencil.

- A)seventeen                      B)forty-one  
C)twenty-one                    D)twenty-seven

7. Haritaya göre **yanlış** bilgi veren kişiyi seçiniz.



- A)Hi! My name is Sumiko. I am from Japan. Russia is in the south.  
B)Hello! I am Simon. I am French. The USA is in the west.  
C)Hello! My name is Igor. I am from Russia. Pakistan is in the South.  
D)Hi! I am Ahran. I am Pakistani. Japan is in the east.

8. This is Niloya. She is my ..... cartoon character.  
I like Niloya. She is young and slim.This is ..... bike.  
She ..... ride a bike but she ..... drive a car.

**Metindeki boşlukları doğru bir biçimde tamamlayan seçeneği işaretleyiniz.**

- A) like /her/ can/ can't  
B)favourite/ his /can't/ can  
C) dislike / her/ can't /can  
D)favourite/ her/ can/ can't



9. Nelly: Do you like going to the playground?  
Yanni: .....  
Nelly: Do you like going to the playground?  
Yanni: Yes, I do.

**Konuşmada boş bırakılan yere uygun düşün seçeneği işaretleyiniz.**

- A)Yes, I can.  
B)Say that again please.  
C)No, I don't  
D)I like flying a kite in the park.

10. **Teacher:** Ok. Let's start our experiment. First cut the paper towel and put it into the cup.

**Student:** I can't find the cup.

.....

**Teacher:** It is behind the pencil case.

**Student:** Ok.

**Konuşmayı en iyi şekilde tamamlayacak seçeneği işaretleyiniz.**

- A)It is next to the jar.  
B)Where is the cup?  
C)Put it into the cup.  
D)What is "cup" in Turkish?